

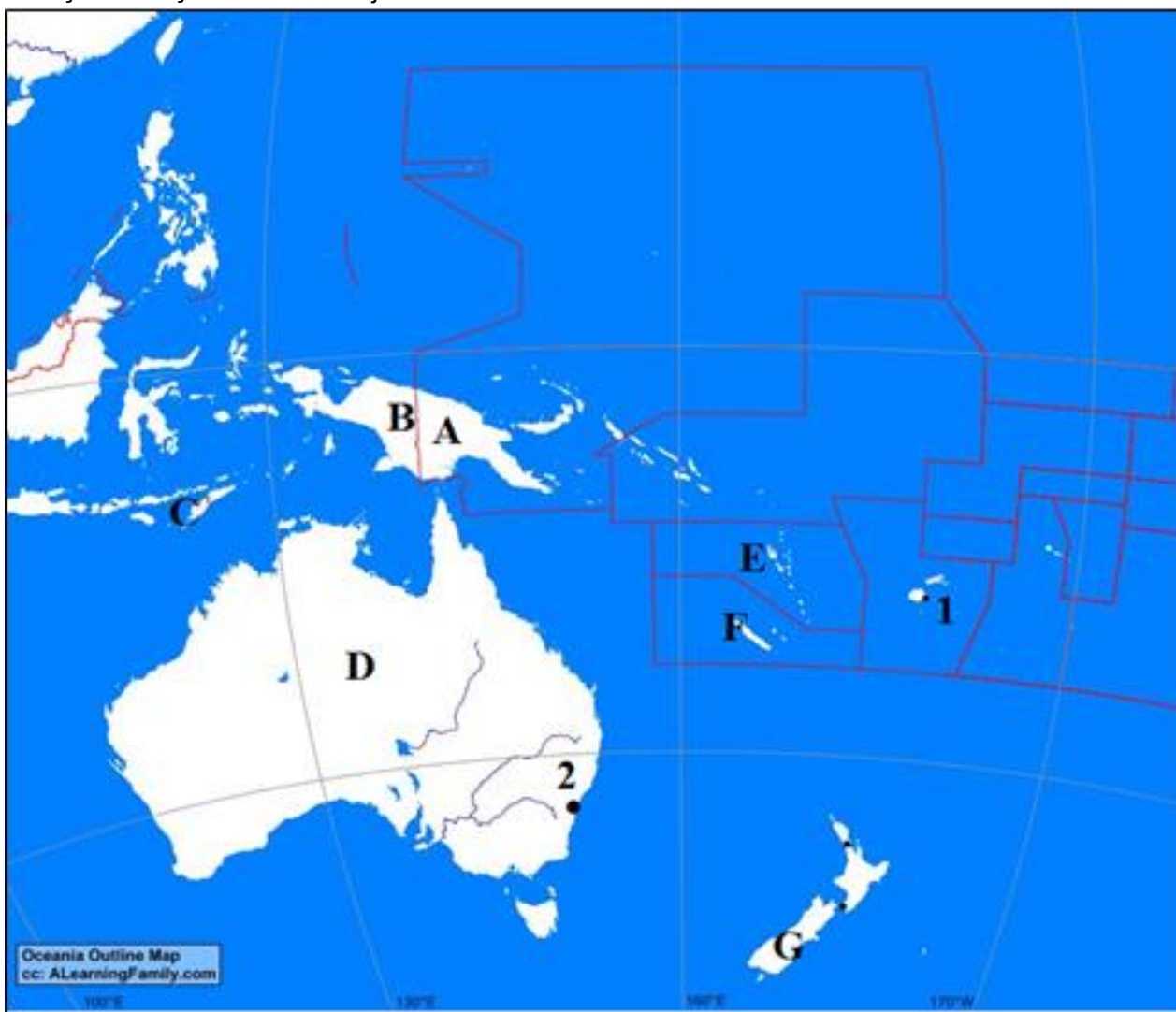
**CONCURSUL ȘCOLAR DE GEOGRAFIE  
ETAPA NAȚIONALĂ  
29 aprilie - 5 mai 2019**

**PROBA TEORETICĂ SCRISĂ  
CLASA a X-a**

- Toate subiectele sunt obligatorii. Se acordă 10 puncte din oficiu.
- Timpul de lucru efectiv este de 3 ore.

**Subiectul I (30 puncte)**

**A.** Analizați cu atenție harta de mai jos.



Scrieți pe foaia de concurs răspunsurile care completează afirmațiile de mai jos:

1. Statele marcate pe hartă cu literele **A** și **E**, fac parte din gruparea regională de state numită .....
2. Statul marcat pe hartă cu litera **C**, se numește .....
3. Între statele marcate pe hartă cu literele **A** și **B**, este o graniță de tip .....
4. Populația băștinașă din statul marcat pe hartă, cu litera **A**, poartă numele de .....
5. Arhipelagul marcat pe hartă cu litera **F**, este teritoriu dependent al statului .....
6. Orașul capitală marcat, pe hartă, cu numărul **1** se numește .....
7. Cel mai mare oraș al Australiei, marcat, pe hartă, cu numărul **2**, se numește .....
8. Religia predominantă din statul marcat pe hartă, cu litera **B**, este .....
9. Resursa naturală exploatată în statul marcat, pe hartă, cu litera **D**, utilizată pentru obținerea aluminiului, este .....
10. Orașul Auckland se află situat în statul marcat, pe hartă, cu litera ..... **20 puncte**

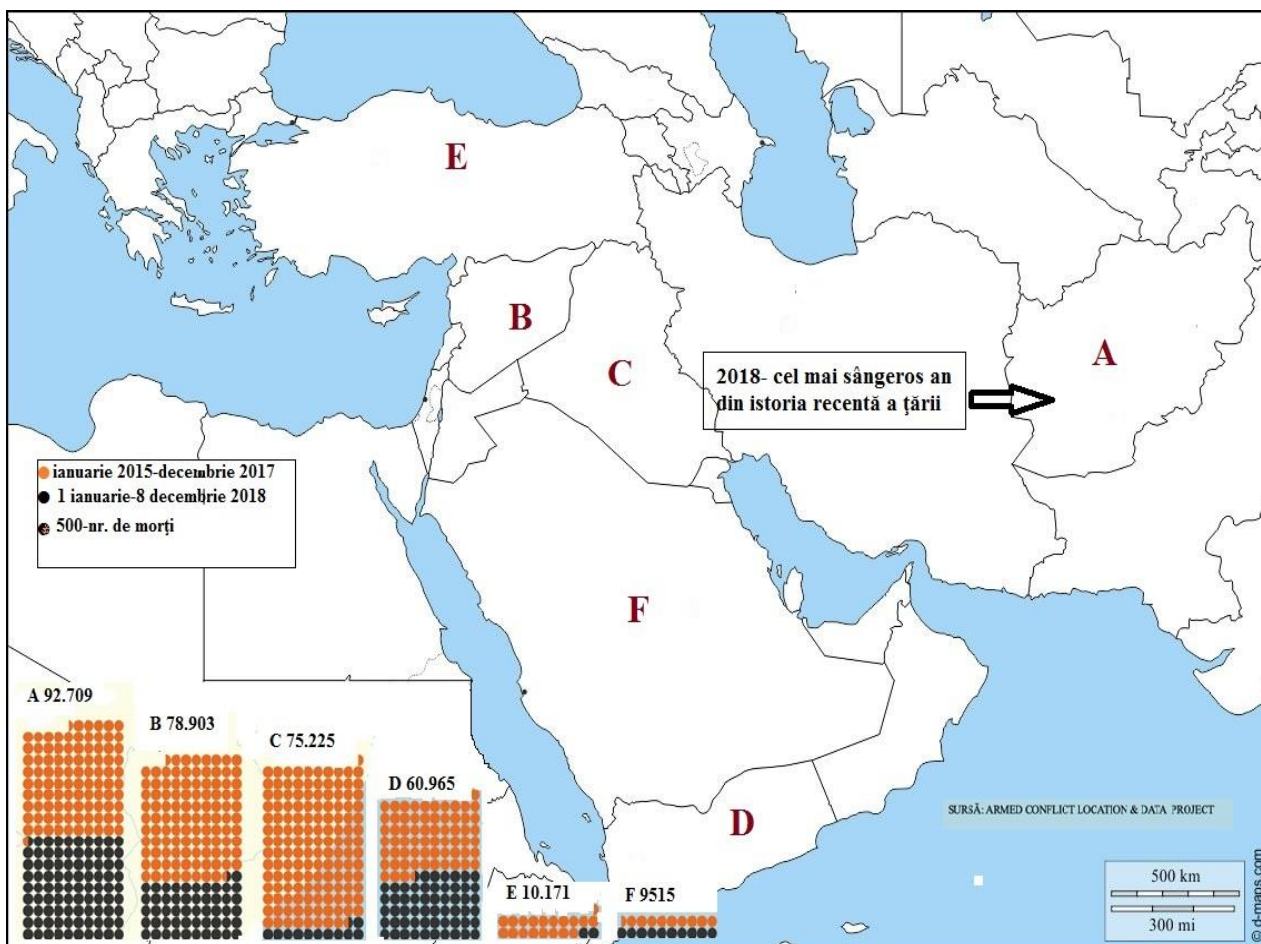
**B.** Scrieți, pe foaia de concurs, litera corespunzătoare răspunsului corect pentru fiecare dintre afirmațiile de mai jos:

1. Limba tamilă face parte din familia lingvistică:
  - a. altaică
  - b. dravidiană
  - c. sino-tibetană
  - d. uralică
2. Un conflict între populațiile hutu și tutsi se desfășoară și pe teritoriul statului:
  - a. Camerun
  - b. Nigeria
  - c. Rwanda
  - d. Sudanul de Sud
3. Ca și formă de guvernământ este un sultanat statul:
  - a. Bahrein
  - b. Kuwait
  - c. Oman
  - d. Quatar
4. Insulele Bermude sunt teritorii dependente aparținând statului numit:
  - a. Irlanda
  - b. Marea Britanie
  - c. Spania
  - d. S.U.A.
5. Reprezintă un amestec dintre metiși și amerindieni, rasa numită:
  - a. ainoizi
  - b. cholos
  - c. mulatră
  - d. zambos
6. Chuiquicamata, un oraș situat la peste 2000 m altitudine, în statul Chile, este cunoscut pentru exploatarea de:
  - a. bauxită
  - b. minereu de cupru
  - c. minereu de fier
  - d. sare
7. Cunoscut centru religios al musulmanilor șiiți, orașul Qom, se află situat pe teritoriul statului:
  - a. Arabia Saudită
  - b. Irak
  - c. Iran
  - d. Qatar
8. Orașul universitar Uppsala se află situat pe teritoriul statului:
  - a. Danemarca
  - b. Finlanda
  - c. Norvegia
  - d. Suedia
9. Este cea mai veche dintre republicile actuale, datând din 1263, țara numită:
  - a. Finlanda
  - b. Irlanda
  - c. Italia
  - d. San Marino
10. *Villas miserias* sunt cartierele sărace specifice orașelor situate în:
  - a. Argentina
  - b. Filipine
  - c. Mexic
  - d. Spania

**10 puncte**

**Subiectul II (18 puncte)**

Harta cu diagramele de mai jos marchează cele mai sângeroase conflicte din perioada **2015-2018**, în Orientul Apropiat și Mijlociu.



Precizați:

- numele statelor cu cele mai multe victime omenești, marcate pe hartă, cu literele **A, B, C**;
- numele orașelor capitală din statele marcate, pe hartă, cu litera **D, E, și F**;
- numele statului cu cel mai mare număr de decese, ca urmare a conflictelor din perioada ianuarie 2015-decembrie 2017;
- numele statului cu cel mai mare număr de decese, ca urmare a conflictelor din perioada ianuarie 2018-decembrie 2018;
- patru cauze ale conflictelor militare întâlnite în țările marcate, pe hartă, cu literele **A și B**;
- gruparea etnică ce revendică teritoriile situate în statele marcate, pe hartă, cu literele **B, C și E**;

### **Subiectul III (16 puncte)**

În imaginea de mai jos sunt prezentate patru moduri de utilizare a resurselor hidrosferei pentru obținerea energiei electrice.


**Precizați:**

- tipul de centrală electrică pentru fiecare imagine marcată cu literele **B, C și D**;
- numele a două state europene care obțin energie electrică utilizând dominant tipul de centrală marcat cu litera **C**;
- numele unui stat din emisfera sudică ce valorifică resursa prezentată în imaginea **B**;
- numele statului în care a fost construită prima centrală electrică de tipul celei marcate în imaginea **D**;
- două avantaje și două dezavantaje pentru producerea energiei electrice cu ajutorul tipului de centrală din imaginea **A**;
- trei factori care condiționează construcția tipului de centrală marcat cu litera **C**;
- numele a două fluvii africane cu potențial hidroenergetic ridicat.



### **Subiectul IV (8 puncte)**

Imaginile de mai jos sunt reprezentative pentru continentul Asia.



Scrieți pe foaia de concurs:

1. Tipul de locuințe prezentate în imaginile notate cu literele **A** și **E**;
2. Tipul de peisaj rural prezentat în imaginile notate cu literele **C** și **D**;
3. Tipul de așezare rurală prezentat în imaginea notată cu litera **F**;
4. O cultură agricolă specifică peisajului rural prezentat în imaginea notată cu litera **B**;
5. Funcțiile așezărilor specifice peisajelor rurale marcate cu literele **A** și **C**;

### **Subiectul V (18 puncte)**

Pe harta de mai jos sunt reprezentate state cu diferite valori ale ratei natalității în anul 2015.

Scrieți pe foaia de concurs:

1. patru state ale căror teritorii sunt situate exclusiv în emisfera sudică și în care rata natalității depășește 38‰;
2. patru cauze care determină valori ridicate ale ratei natalității în unele state de pe continentul african;
3. patru efecte ale valorilor scăzute ale ratei natalității din continentul european;
4. doi factori care determină natalitatea ridicată în Afganistan și Irak;
5. două state andine cu valori ale natalității peste 18,2 ‰;
6. un tip de comportament demografic specific țărilor din vestul Africii;
7. un stadiu al tranziției demografice în care se află statele din Europa Centrală și de Est.

