

**CONCURSUL ȘCOLAR DE GEOGRAFIE
ETAPA LOCALĂ**

11 februarie 2012, CLASA a X-a

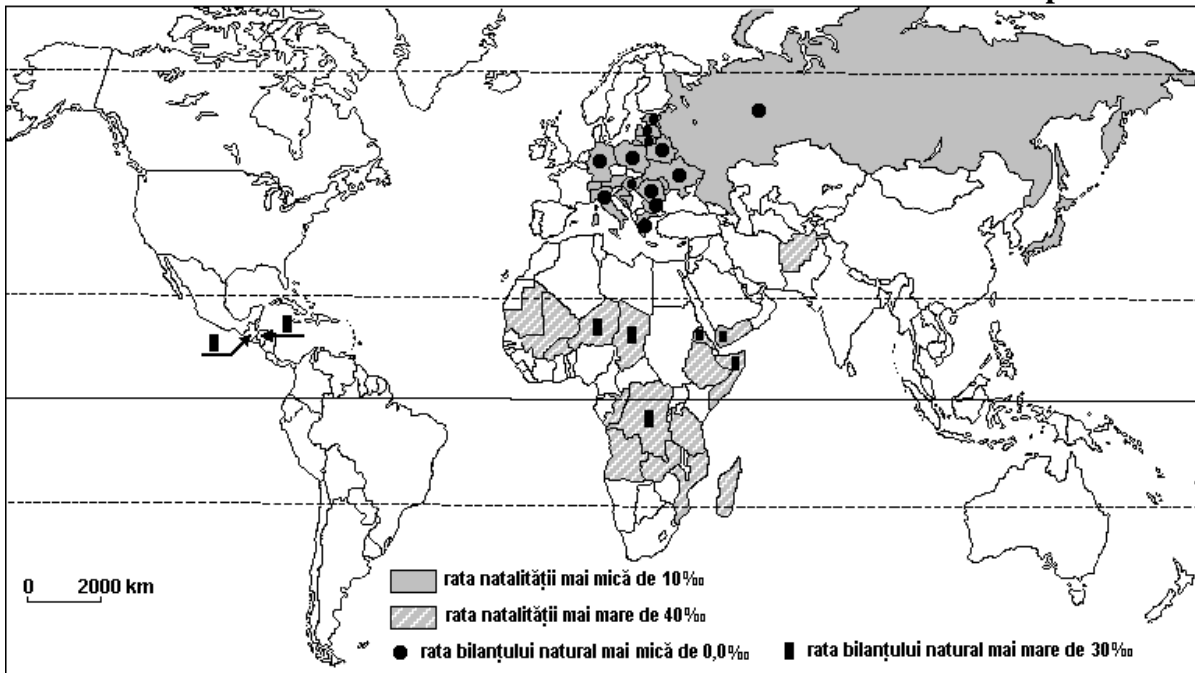
- Toate subiectele sunt obligatorii. Se acordă 10 puncte din oficiu.
- Timpul efectiv de lucru este de 3 ore.

SUBIECTE:

1. Analizați harta de mai jos.

- a. Scrieți denumirile țărilor cu rate ale natalității mai mici de 10,0‰ și mai mari de 40,0‰. Explicați contrastele dintre cele două grupe de țări.
- b. Scrieți denumirile țărilor cu rate ale bilanțului natural mai mari de 30‰ și mai mici 0,0‰. Explicați contrastele generate de valorile specifice celor două grupe de țări.

19 puncte

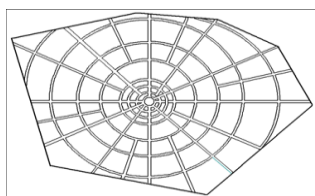


2. a. Precizați tipul morfostructural urban reprezentat de desenul notat cu a., precum și caracteristicile acestuia.

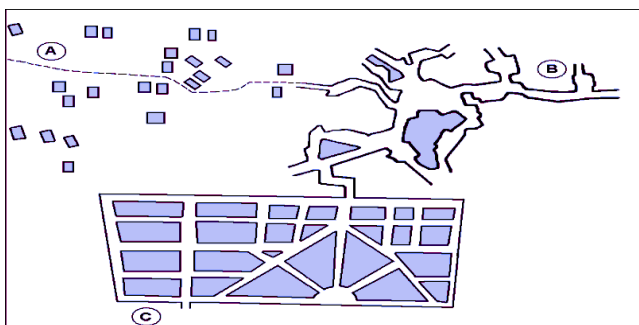
- b. Precizați tipurile de așezări rurale marcate cu literele A, B și C din desenul notat cu b. și câte trei caracteristici pentru fiecare tip de așezare rurală.

18 puncte

a.

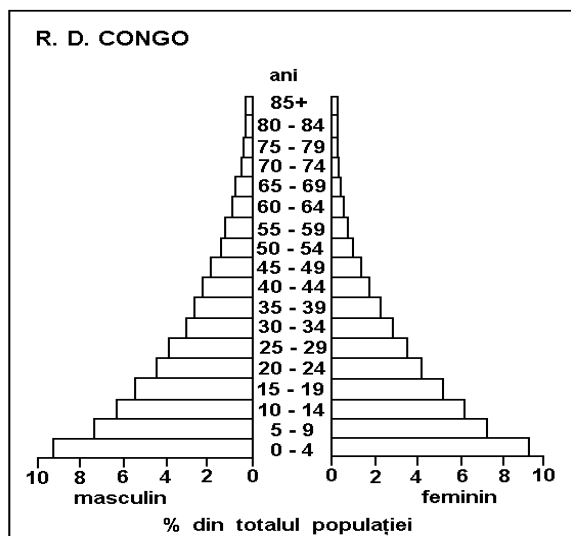


b.

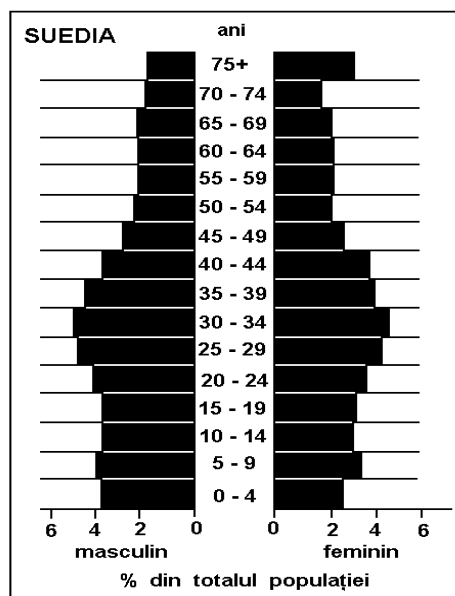


3. a. Structura populației pe grupe de vârstă: definiție, ponderea grupelor de vârstă pe tipuri de țări, cauze și exemple.

b. Comparați piramidele grupelor de vârstă ale populației R. D. Congo și Suediei, prezentate mai jos. Precizați și explicați deosebirile dintre cele două modele grafice, marcate cu cifrele 1 și 2.
18 puncte



1 PIRAMIDA GRUPELOR DE VÂRSTĂ ALE POPULAȚIEI R. D. CONGO



2 PIRAMIDA GRUPELOR DE VÂRSTĂ ALE POPULAȚIEI SUEDEI

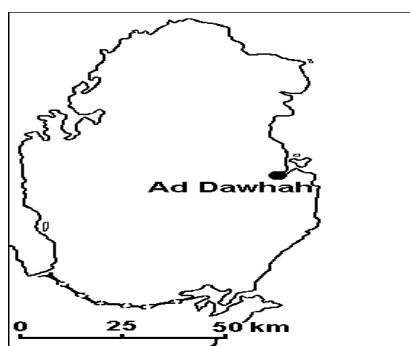
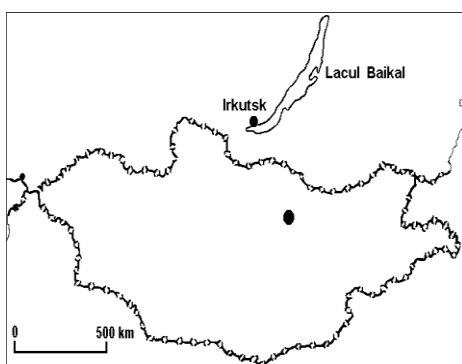
4. În anul 2002, în mișcarea totală a populației României s-au înregistrat 210.529 de născuți vii, 269.666 decese, 8.154 de emigranți și 6.583 de imigranți. Populația României era de 21.794.793 de locuitori. Calculați bilanțul total al populației, în valori absolute și în promile.

16 puncte

5. a. Desenele de mai jos reprezintă conturul a două teritorii de stat. Precizați, pentru fiecare din cele două teritorii de stat: denumirea oficială, poziția geografică, forma, vecinii, tipul de frontieră, forma de guvernământ, orașul cu funcția de capitală de stat, forma de relief dominantă (formele de relief dominante), structura de stat.

b. Precizați forma de guvernământ și cultul dominant pentru statele Nepal, India, Pakistan, Bangladesh și Sri Lanka,

19 puncte



Prof. Popițiu Diana – Grup Școlar Industrial de Construcții Mașini Sibiu