

**MINISTERUL EDUCAȚIEI NAȚIONALE
INSPECTORATUL ȘCOLAR JUDEȚEAN VASLUI**

**OLIMPIADA DE GEOGRAFIE
ETAPA LOCALĂ – 16 FEBRUARIE 2014, CLASA a X-a
PROBA TEORETICĂ SCRISĂ**

**Timpul de lucru este de 3 ore.
Toate subiectele sunt obligatorii.
Se acordă 10 puncte din oficiu.**

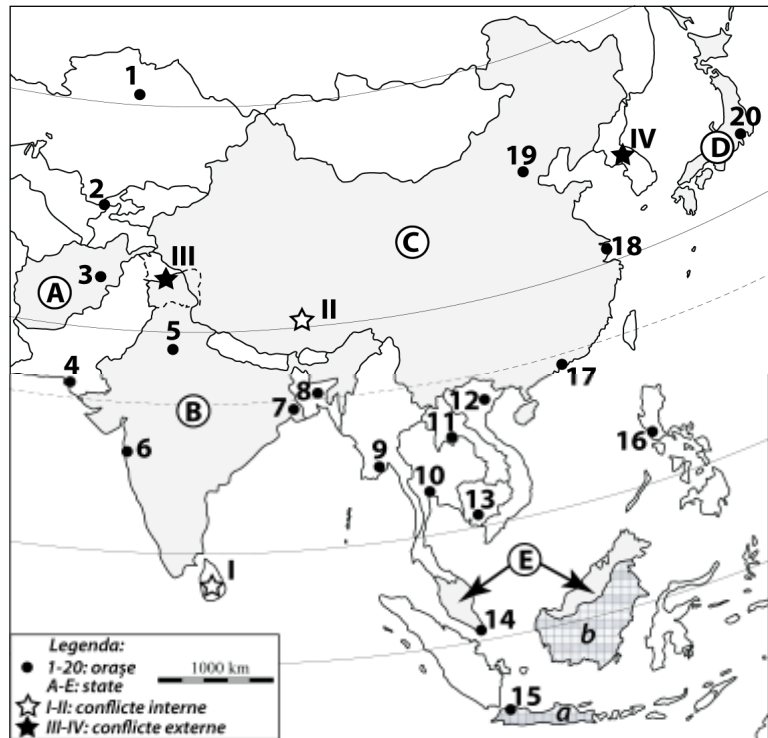
SUBIECTUL I

45 puncte

Aveți în vedere harta alăturată.

1. Precizați:

- numele orașelor marcate, pe hartă, cu numere de la 1 la 20;
- forma de guvernământ și forma de organizare politică internă (structura de stat) pentru fiecare din statele marcate, pe hartă, cu literele A, B, C, D și E;
- tipul de capitală politică la care se încadrează orașele marcate, pe hartă, cu numerele 1 și 20;
- criteriul comun care stă la baza conflictelor marcate, pe hartă, cu numerele I și II.
- statele aflate în conflict și tipul de conflict pentru zona marcată, pe hartă, cu numărul IV.

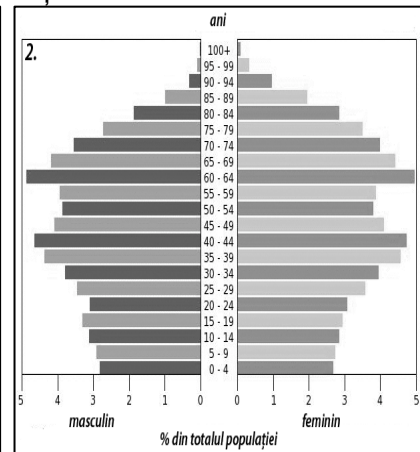
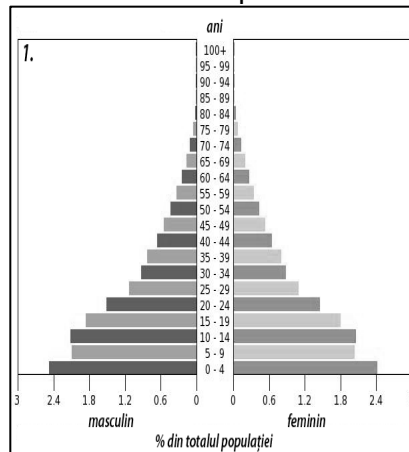


2. Teritoriile marcate, pe hartă, cu literele a și b aparțin celui mai populat stat din Asia de Sud-Est.

- Precizați denumirea statului și a insulelelor pe care se dispun cele două teritorii.
- Precizați forma (configurația) teritoriului statului identificat la punctul anterior și cultul care domină în acesta.
- Explicați, prin prisma factorilor naturali, deosebirea privind densitatea populației în cele două teritorii.

3. Analizați reprezentările grafice de mai jos care prezintă structura populației pe grupe de vârstă și sexe pentru două din statele marcate pe hartă. Precizați:

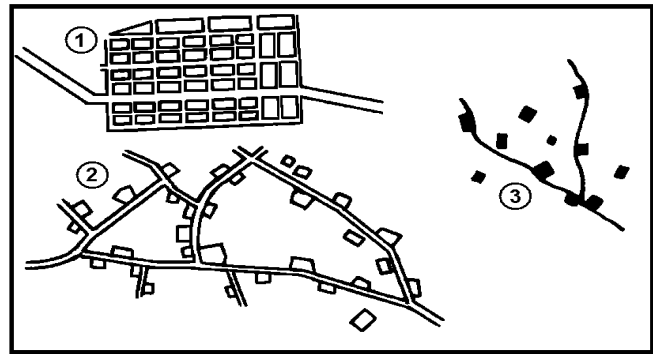
- caracteristicile generale și tipul de țări ce se reprezintă prin cele două piramide;
- tipurile demografice ilustrate de cele două piramide ale vârstelor;
- denumirile țărilor reprezentate prin cele două piramide având în vedere că acestea sunt situate aproximativ la aceeași latitudine.



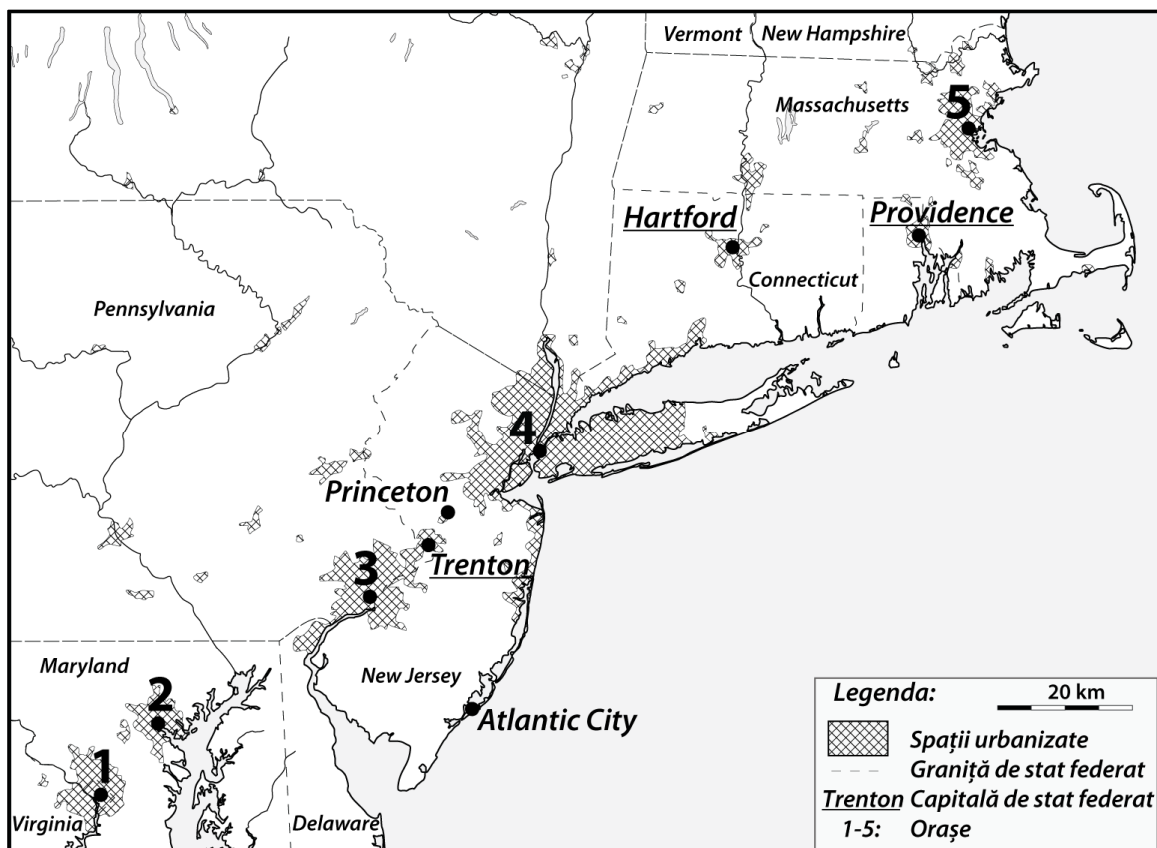
SUBIECTUL II**21 puncte**

Se dau trei tipuri de sate, prezentate în desenul alăturat.

1. Precizați:
 - a. denumirile tipurilor de sate;
 - b. forma și structura satelor;
 - c. funcțiile economice specifice raportate la tipul de sat.
2. Explicați forma și structura satelor identificate.

**SUBIECTUL III****24 puncte**

Pe harta de mai jos este reprezentată o formă de aglomerare urbană de pe continentul nord american.



1. Precizați:
 - a. tipul de concentrare urbană și denumirea ei;
 - b. poziția geografică;
 - c. mărimea teritorială și demografică;
 - d. numele orașelor marcate, pe hartă, cu numere de la 1 la 5;
 - e. funcțiile orașelor Providence, Princeton și Atlantic City;
 - f. funcția orașului marcat, pe hartă, cu numărul 4.
2. Explicați modul de formare a acestui areal puternic urbanizat.