

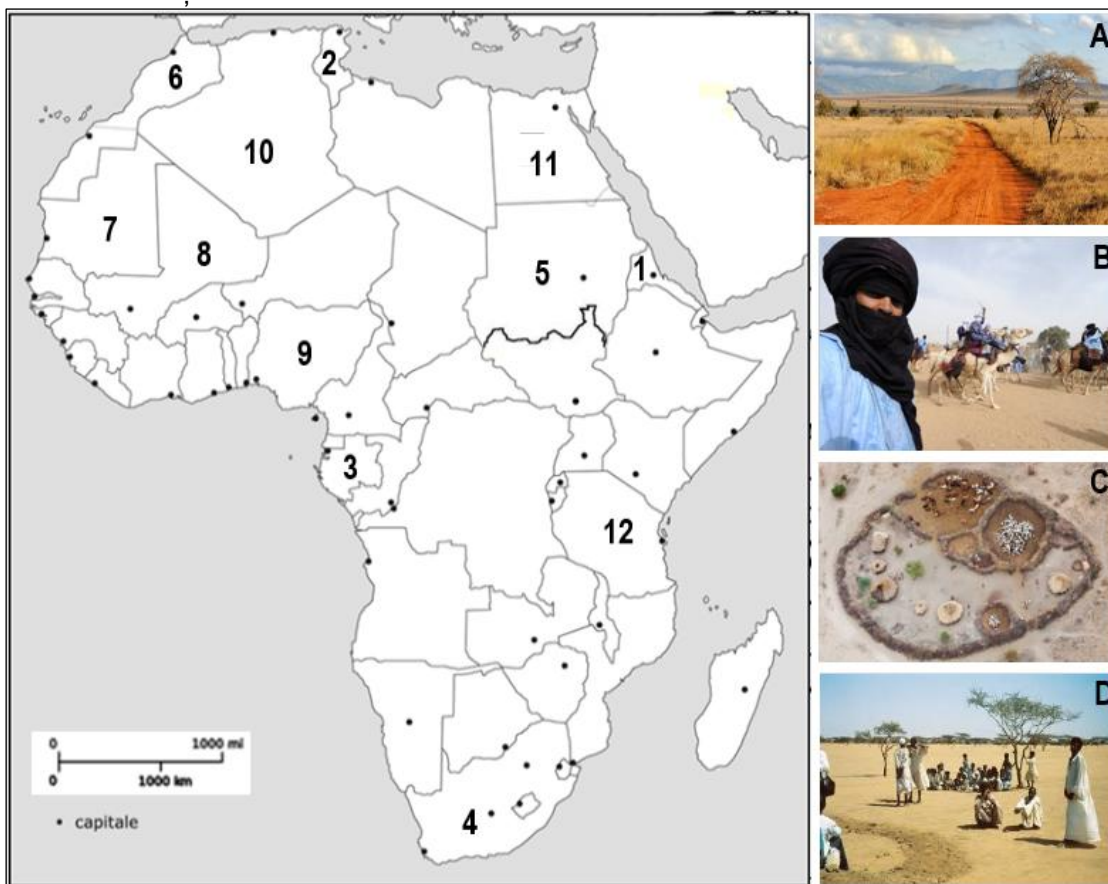
CONCURSUL ȘCOLAR DE GEOGRAFIE
ETAPA NAȚIONALĂ
1 – 6 aprilie 2018, Brăila

CLASA a X-a
SUBIECTELE PENTRU PROBA TEORETICĂ SCRISĂ

- Toate subiectele sunt obligatorii. Se acordă 10 puncte din oficiu.
- Timpul efectiv de lucru este de 3 ore.

SUBIECTUL I (27 puncte)

Analizați cu atenție harta și imaginile de mai jos. Scrieți, pe foaia de concurs, răspunsurile la următoarele cerințe:

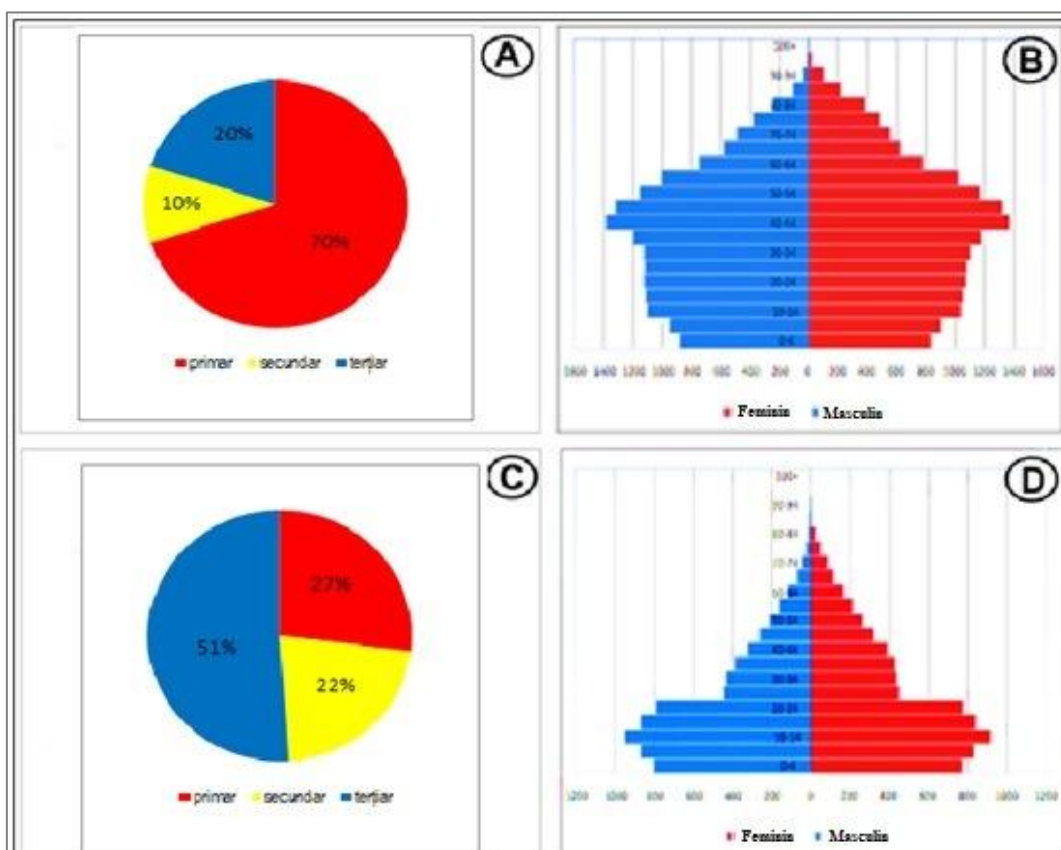


1. Precizați numele lacului care constituie granița vestică a statului marcat pe hartă cu numărul 12;
2. Numiți statul traversat de Ecuator marcat, pe hartă, cu ieșire la Golful Guineea;
3. Menționați numele statului marcat, pe hartă, cu cele mai scăzute altitudini și vecin cu statul Djibouti;
4. Pentru statul marcat, pe hartă, cu numărul 4 precizați:
 - a. numele capitalei administrative;
 - b. forma de guvernământ a celor două teritorii-enclavă;
 - c. tipul de politică cu care s-a confruntat acest stat până în 1994, precum și o consecință asupra mediului social sau economic din acest stat;
5. Numiți două limbi oficiale vorbite în statul marcat, pe hartă, cu numărul 6, și o cauză a diversității lingvistice din acest stat;
6. Precizați evenimentul istoric care a marcat modificarea hărții politice a Africii și o consecință a acestuia;
7. Numiți cel mai tânăr stat african apărut în anul 2011 și cauza care a stat la baza apariției sale;

8. Precizați denumirea grupului etnic ilustrat în imaginea notată cu litera **B** și statul cu cea mai mare suprafață dintre cele marcate, pe hartă, unde poate fi întâlnit;
9. Cu referire la imaginea notată cu litera **C**, precizați:
 - a. denumirea tipului de așezare rurală;
 - b. două caracteristici ale organizării spațiului rural.
10. Precizați numele arealului geografic unde este specifică forma de degradare a mediului ilustrată în imaginea marcată cu litera **D** și existentă în statele notate cu numerele **5**, **7** și **8**;
11. Pentru statul marcat, pe hartă, cu numărul **9**, precizați:
 - a. a doua religie ca pondere în rândul populației;
 - b. numele orașului capitală;
 - c. numele celui mai populat oraș și categoria din care face parte, ca număr de locuitori.
12. Cu privire la resursele naturale din Africa, precizați:
 - a. un stat dintre cele marcate, pe hartă, cu exploatari importante de fosforite;
 - b. statul marcat, pe hartă, cu cea mai mare amenajare hidrotehnică din Africa;
 - c. statul în care funcționează centrale electrice care folosesc diferențele de temperatură ale apei oceanice.

SUBIECTUL II (14 puncte)

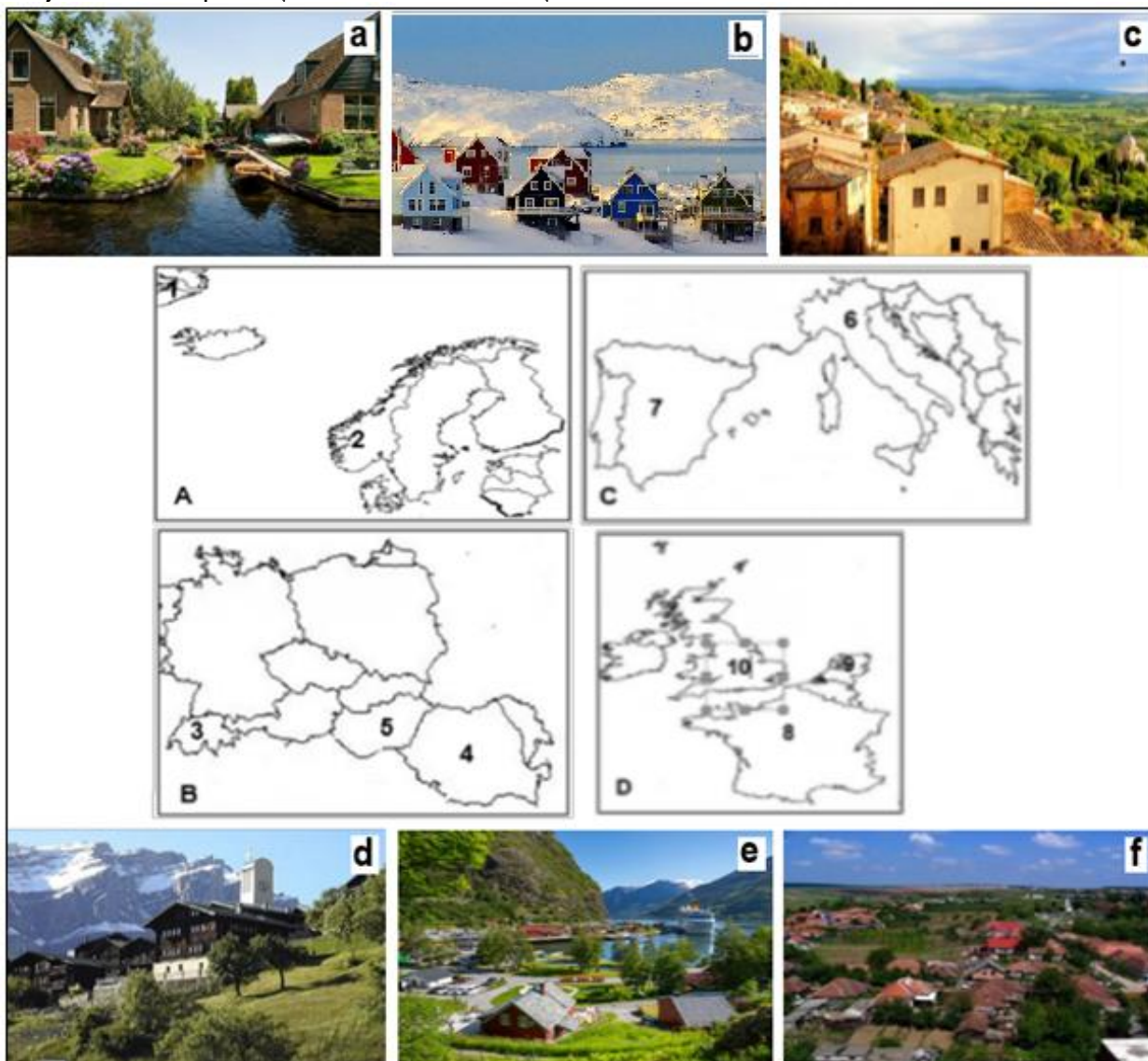
Analizați reprezentările grafice de mai jos cu structuri geodemografice pentru două state în 2011. Răspundeți la următoarele cerințe:



1. Precizați cele două tipuri de reprezentări grafice ilustrate în imaginile **A**, **B**, **C** și **D**;
2. Pentru reprezentările **B** și **D**, precizați:
 - a. denumirea fenomenului/procesului demografic sugerat de fiecare reprezentare grafică;
 - b. câte două caracteristici specifice fenomenului identificat la punctul a;
3. Corelați reprezentările grafice marcate cu literele **B** și **D** cu cele marcate cu literele **A**, respectiv **C**, menționând câte două caracteristici socio-economice rezultate din asocier.

SUBIECTUL III (24 puncte)

Analizați hărțile cu regiuni geografice din Europa și imaginile alăturate ce prezintă tipuri de peisaje rurale. Răspundeți la următoarele cerințe:



1. Realizați asocierile corecte dintre peisajele rurale din imaginile marcate cu literele **a,b,c,d,e,f** și statele europene marcate, pe hărți, cu numere de la **1** la **10**;
2. Numiți tipul de mediu de viață specific peisajelor rurale din imaginile notate cu literele **a, b, c** și **d**;
3. Precizați un factor restrictiv și unul favorizant care a determinat caracteristicile vetrei și fizionomia așezării rurale din imaginea marcată cu litera **d**;
4. Denumirea tipului de sat după structură, pentru peisajele rurale marcate cu literele **c** și **f**;
5. Precizați câte o funcție economică reprezentativă neagrícola, pentru fiecare dintre peisajele rurale din imaginile marcate cu literele **b,d** și **e**;
6. Pentru peisajul rural din imaginea marcată cu litera **a**, precizați:
 - a. forma de relief pe care s-a dezvoltat și o caracteristică a acesteia;
 - b. două motive care au determinat statul marcat, pe hartă, cu numărul **9**, să amenajeze acest tip de teritoriu;
 - c. un dezavantaj ce rezultă din amenajarea acestui tip de spațiu rural.
7. Precizați o asemănare și o deosebire între tipurile de peisaje rurale din imaginile marcate cu literele **b** și **e**.

SUBIECTUL IV (18 puncte)

Imaginea satelitară alăturată, arată un mare oraș american unde trăiesc peste 15 milioane de locuitori, situat la gura de vărsare a râului Hudson în Oceanul Atlantic și inclus într-un mare areal urbanizat.

Precizați:

1. numele orașului reprezentat în imaginea satelitară;
2. numele a trei insule pe care s-a construit o mare parte a orașului;
3. doi factori naturali care au favorizat apariția și dezvoltarea acestuia;
4. tipul morfostructural caracteristic pentru acest oraș;
5. două caracteristici ale fizionomiei urbane;
6. tipul/forma de aglomerare urbană din care face parte și numele acesteia;
7. numele altor patru orașe din forma de aglomerare urbană menționată la punctul 6;
8. Precizați semnificația abrevierii C.B.D și două caracteristici ale sale în organizarea spațiului urban

nord american.

Subiectul V (7 puncte)

Se dă următorul text:

"Grație așezării sale geografice pe două continente, acest stat este locul de întâlnire dintre lumi și culturidiferite. Partea europeană, mai mică, se numește Trakia, restul statului se află pe teritoriul Asiei. Are ieșire la patru mări (...). Este în dispută complexă pe plan maritim, aerian și teritorial cu Grecia în Marea Mediterană."

(wikipedia.org/wiki)

Pe baza textului, precizați:

1. gruparea geopolitică din care face parte statul descris în text;
2. numele celui mai populat oraș;
3. numele celui mai mare port la Marea Egee;
4. forma de guvernământ și religia predominantă;
5. numele unei grupări economice regionale din care face parte acest stat;
6. numele statului disputat cu Grecia.